



# ශ්‍රී ලංකා භෞතික විද්‍යා ඔලිම්පික් තරගය -2014

කාලය : ෦෫ 02  
ගණක ගත්තු භාවිත කළ නොහැක.

දිනය : 21.06.2014

විභාග අංකය:.....

විෂය : පෙ.ව 9.00 - පෙ.ව 11.00

- ❖ ප්‍රශ්න සියල්ලටම පිළිතුරු සපයන්න.
- ❖ මෙම ප්‍රශ්න පත්‍රයේ කොටස් දෙකක් 'A සහ B' ඇත.
- ❖ "A" කොටසේ ඔනූවර්ණ ප්‍රශ්න 15 ක් ඇත. ඔබගේ තෝරාගැනීමට අදාළ ප්‍රතිචාරය යටින් ඉරක් අදින්න. පිළිතුරක් තෝරා ගැනීම ඔබ වෙත කළු පෙර ලකුණු කරන ලද ඉර සම්පූර්ණයෙන්ම මකා ඉවත් කළ යුතුය.
- ❖ "B" කොටසේ ප්‍රශ්න දෙකක් ඇත.
- ❖ සියළුම ව්‍යුත්පන්න කිරීම් සඳහා දී ඇති කඩදාසි භාවිත කරන්න.
- ❖ සෑම ප්‍රශ්නයක් අවසානයේදී අදාළ අවසාන ප්‍රකාශන හෝ සංඛ්‍යාත්මක පිළිතුරු, ලිඛිත සඳහා පිළිතුරු, පතක් ඔබට සපයා ඇත.
- ❖ විභාගය අවසානයේදී අවසාන පිළිතුරු, පත් සමඟ සම්පූර්ණ ප්‍රශ්න පත්‍රය භාර දෙන්න.
- ❖ ගැටළු විසඳීම සඳහා යොදාගත් කඩදාසිවල සෑම එකකම ඔබගේ විභාග අංකය ලියා වෙනමම භාර දෙන්න.
- ❖ ප්‍රශ්න පත්‍රයේ කිසිදු පිටුවක් ඉවත් නොකරන්න.

### A කොටස

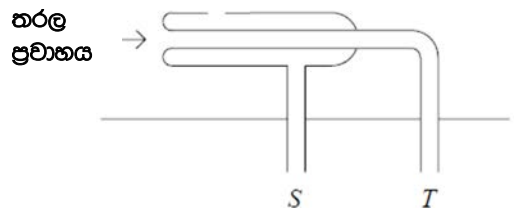
#### ඔනූවර්ණ ප්‍රශ්න

1) බැරරියක වී. ගා. බ.  $E_b$ ,  $E_b = P/I$  මගින් දෙනු ලැබේ. මෙහි  $P$  යනු  $I$  ධාරාවක් ගලායන විට ඝෂමතා උත්සර්ජනයයි. චුම්භක ක්‍රාවය වෙනස්වීම මගින් දැරියක ප්‍රේරිත වී. ගා. බ.  $E_c$ , චුම්භක ක්‍රාවය ( $\Phi$ ), වෙනස්වීමේ ශීඝ්‍රතාවයට සමාන වේ.  $E_c = d\Phi/dt$ . පහත දැක්වෙන එවා අතුරින් චුම්භක ක්‍රාවයේ එකකය වනුයේ,

- (1)  $m s^{-1} A$       (2)  $m s^{-2} A^{-1}$       (3)  $kg m^2 s^{-2} A$       (4)  $kg m s^2 A^{-1}$       (5)  $kg m^2 s^{-2} A^{-1}$

2) ගලායන තරලයක තැබූ ස්ථිතික පිටෝපි නළයක් (Pitot tube) රූපයෙහි දැක්වේ.  $S$  සහ  $T$  ලක්ෂ්‍යවලට සමකල මැනෝමීටරයක ද්‍රව මට්ටම් වෙනස  $h$  ලෙස පෙන්වනු ලැබේ.  $v$  = ගලායන තරලයේ ප්‍රවේගය,  $d$  = ගලායන තරලයේ ඝනත්වය,  $\rho$  = මැනෝමීටර ද්‍රවයේ ඝනත්වය නම් එවිට  $v^2$  සමාන වනුයේ,

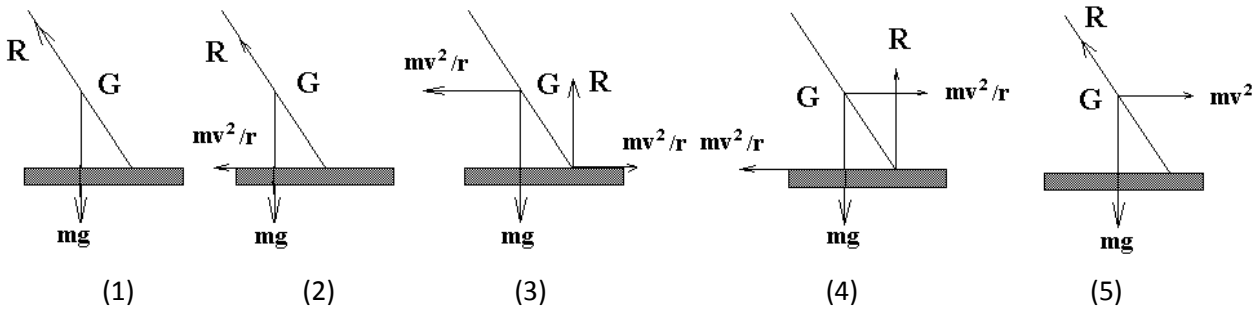
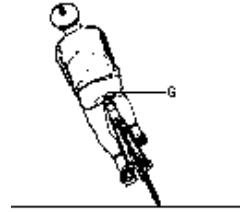
- (1)  $2\rho gh/d$       (2)  $2dgh$       (3)  $\rho gh/d$   
 (4)  $dgh/\rho$       (5)  $\rho dgh$



3) ස්කන්ධය  $m$  වූ වස්තුවක් තිරයට  $\theta$  කෝණයකින් ආනතව  $u$  වේගයකින් ප්‍රක්ෂේපණය කරනු ලැබේ. එම මට්ටමේම ප්‍රක්ෂේපණය ලක්ෂ්‍යයේ සිට  $R$  දුරකින් එය බිමට පතිත වේ. මෙම ප්‍රක්ෂේපිත වලිතය තුළ ගමන් කළ වෙනස්වීමෙහි විශාලත්වය වනුයේ,

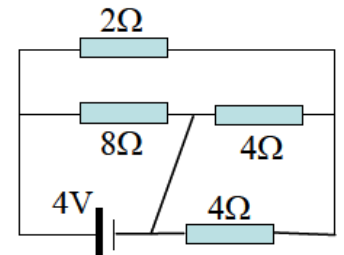
- (1) ශුන්‍යය (2)  $2mu$  (3)  $2mucos\theta$  (4)  $2musin\theta$  (5)  $2mutan\theta$

4) රූපයෙහි බයිසිකල් කරුවෙකු රළු පාරක නියත  $v$  වේගයකින් වම් දිශාවට භරවන අගුරු (අරය  $r$  වූ පථයක) පිටුපසින් පෙනෙන අත්දමින් පෙන්වා ඇත. බයිසිකල්කරුගේ සහ බයිසිකලයේ මුළු ස්කන්ධය  $m$  වන අතර එවායේ සංයුක්තයේ ගුරුත්ව කේන්ද්‍රය  $G$  හි පිහිටයි.  $R$  යනු ඝර්ෂණ බලයේ සහ අභිලම්භ ප්‍රතික්‍රියාවෙහි සම්ප්‍රයුක්තය වේ නම් අවස්ථා තීරණකයකට සාපේක්ෂව පහත කිනම් දෛශික රූපය මගින් බයිසිකලය සහ බයිසිකල්කරු මත ක්‍රියාකරන බලයන්ගේ දිශාව පෙන්වුම් කරයිද?



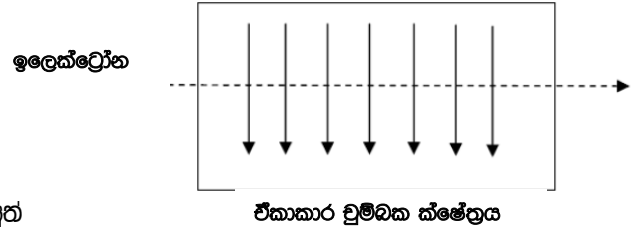
5) පෙන්වා ඇති පරිපථයේ බැටරිය තුළින් ගලන ධාරාව වනුයේ (බැටරියේ අභ්‍යන්තර ප්‍රතිරෝධය නොසලකා හරින්න)

- (1) 1 A (2) 2 A (3) 2.5 A (4) 4 A (5) 1.5 A



6) චුම්භක ක්ෂේත්‍රයක් සහ විද්‍යුත් ක්ෂේත්‍රයක් පවතින ප්‍රදේශයක් තුළට ඉලෙක්ට්‍රෝන කදම්බයක් ඇතුළු වේ. එම ඉලෙක්ට්‍රෝන කදම්බය අපගමනය නොවී කෙළින්ම එම ප්‍රදේශය හරහා ගමන් කරවීම සඳහා  $E$  විද්‍යුත් ක්ෂේත්‍රයක් යෙදිය යුත්තේ කෙසේද? (චුම්භක ක්ෂේත්‍රයේ දිශාව රූපයේ ඊතල මගින් පෙන්වා ඇත.)

- (1) කඩදාසියේ තලය ඔස්සේ පහළ දිශාවට  
 (2) කඩදාසියේ තලය ඔස්සේ ඉහළ දිශාවට  
 (3) කඩදාසිය තලය තුළට  
 (4) කඩදාසියේ තලයෙන් පිටතට  
 (5) චුම්භක ක්ෂේත්‍ර මගින් ඉලෙක්ට්‍රෝනවලට බලපෑමක් කළ නොහැකි නිසා විද්‍යුත් ක්ෂේත්‍රයක් යෙදීම අවශ්‍ය නොවේ



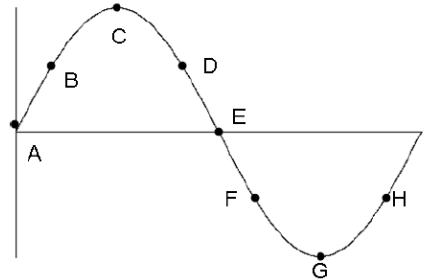
7) අවතල කාචයක දාරය එකාකාර ලෙස කලුකර ඇත්තේ කාචය තුළින් ආලෝකය ගමන් කළ හැකි ප්‍රදේශයේ විෂ්කම්භය 4.0 cm ක් වන වෘත්තයකට සීමාවන පරිදිය. ආලෝක කදම්බයක් කාචයේ එම නිරාවරණය වූ මුළු වෘත්තයම හරහා ප්‍රධාන අක්ෂයට සමාන්තර වන පරිදි ගමන් කළවිට කාචයේ සිට 60.0 cm ක් දුරින් පිහිටි තිරයක් මත 20.0 cm ක විෂ්කම්භයක් සහිත වෘත්තාකාර ආලෝක ලපයක් සාදයි. කාචයේ නාභිය දුර කොපමණද?

- (1) 10.7 cm (2) 15.0 cm (3) 18.0 cm (4) 20.0 cm (5) 60.0 cm

8) කෘෂ්ණ වස්තු ප්‍රභවයකින් විකිරණය වන මුළු ශක්තිය විනාඩියක කාලයක තුළ එකතු කර ජලය රත් කිරීම සඳහා යොදා ගැනේ. ජලයෙහි උෂ්ණත්වය 20.0 °C සිට 20.5 °C දක්වා ඉහළ ගියේය. එම කෘෂ්ණ වස්තුවේ නිරපේක්ෂ උෂ්ණත්වය දෙගුණකර ඉහත පරීක්ෂණය නැවත සිදුකල විට පහත ප්‍රකාශයන්ගෙන් කිනම් ප්‍රකාශය වඩාත් ආසන්න වශයෙන් නිවැරදි වේද ?

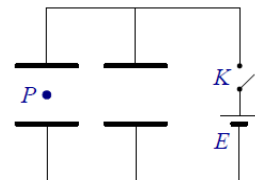
- (1) ජලයෙහි උෂ්ණත්වය 20 °C සිට 21 °C වූ අවසාන උෂ්ණත්වයක් දක්වා ඉහළ යනු ඇත.
- (2) ජලයෙහි උෂ්ණත්වය 20 °C සිට 24 °C වූ අවසාන උෂ්ණත්වයක් දක්වා ඉහළ යනු ඇත.
- (3) ජලයෙහි උෂ්ණත්වය 20 °C සිට 28. °C වූ අවසාන උෂ්ණත්වයක් දක්වා ඉහළ යනු ඇත.
- (4) ජලයෙහි උෂ්ණත්වය 20 °C සිට 36 °C වූ අවසාන උෂ්ණත්වයක් දක්වා ඉහළ යනු ඇත.
- (5) විනාඩියක කාලය තුළ ජලය නටනු ඇත

9) රූපය මගින් කාලයේ එකතරා මොහොතක තීරයක තරංගයක් පෙන්වුම් කරනු ලබයි. එම මොහොතේ F ලක්ෂ්‍යය පහළ දිශාවට චලනය වෙමින් පවතින බව අපි දන්නේ නම් එමගින් අපෝහනය කල හැක්කේ



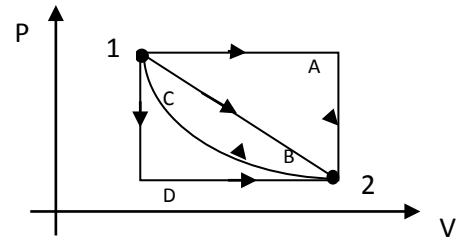
- (1) තරංගය දකුණු දිශාවට ගමන් කරන බවයි
- (2) C ලක්ෂ්‍යය B ලක්ෂ්‍යයට ප්‍රථම සමතුලිත පිහිටීමට ලගාවන බවයි
- (3) H ලක්ෂ්‍යය F ලක්ෂ්‍යය ගමන් කරන දිශාවෙහිම ගමන් කරන බවයි
- (4) මෙම පිහිටීමේදී D ලක්ෂ්‍යයෙහි තවරණය උපරිම වන බවයි
- (5) A කොහෙත්ම චලනය නොවන බවයි

10) රූපයේ පෙනෙන පරිදි සමාන්තර තහඩු ධාරිත්‍රක දෙකක් තිරස්ව තබා E බැටරියක සම්බන්ධ කරනු ලැබේ. ධාරිත්‍රක ආරෝපණය වූ පසු K ස්විච්චය විවෘත කරනු ලැබේ. වම් ධාරිත්‍රකය තුළ ආරෝපිත අංශුවක් නිසලව සිටින සේ තබා ඇත. දකුණු ධාරිත්‍රකයේ තහඩු අතර දුර අඩුකලහොත් එවිට එම අංශුව



- (1) තිරස්ව ගමන් කරයි
- (2) පහළ දිශාවට ගමන් කරයි
- (3) ඉහළ දිශාවට ගමන් කරයි
- (4) වෘත්තයක ගමන් කරයි
- (5) දිගටම නිසලව පවතී

11) මෙහි පෙන්වා ඇති පරිපූර්ණ වායුවක PV සටහනෙහි 1 සිට 2 දක්වා කිනම් මාර්ගය ඔස්සේ වායුව මගින් වැඩිම කාර්යයක් කරනු ලැබේද ?



- (1) A      (2) B      (3) C      (4) D
- (5) සියළුම මාර්ග මගින් එකම කාර්යයක් කරයි

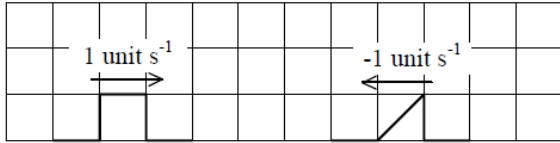
12) සංඛ්‍යාතය 540 Hz ක වූ නලාවක් 15 rad s<sup>-1</sup> කෝණික වේගයකින් ආරය 2 m ක වූ වෘත්තයක භ්‍රමණය වේ. වෘත්තයේ කේන්ද්‍රයට සාපේක්ෂව නිසලව ඉතා ඇතිත් සිටින සවිභ්‍රමණකාලීන ඇයෙකු ලබන උපරිම සහ අවම සංඛ්‍යාත පිළිවෙලින් වනුයේ (වාතයේ ධ්වනි වේගය = 330 m s<sup>-1</sup>)

- (1) 540 Hz, 495 Hz      (2) 594 Hz, 540 Hz      (3) 594 Hz, 495 Hz      (4) 540 Hz, 540Hz
- (5) 540 Hz, 0

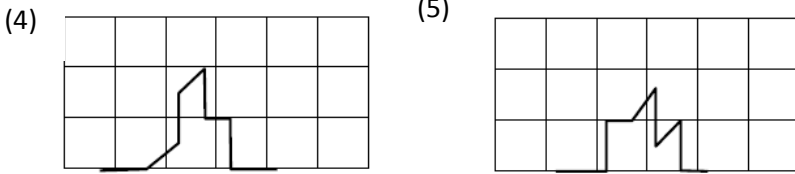
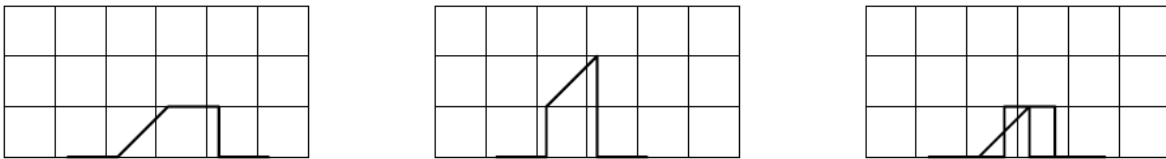
13) ස්කන්ධය  $m$  වූ සන්නිවේදන වන්නිකාවක් පෘථිවියෙහි ස්කන්ධ කේන්ද්‍රය වටා අරය  $r$  වූ වෘත්තාකාර කක්ෂයක  $\omega$  වූ නියත කෝණික වේගයකින් චලනය වේ. එම වන්නිකාව මත එක් සම්පූර්ණ පරිභ්‍රමණයකදී ගුරුත්වාකර්ෂණ බල මගින් කරනු ලබන කාර්යය වනුයේ,

- (1) ශුන්‍යය (2)  $2\pi mr^2\omega^2$  (3)  $\pi mr^3\omega^2$  (4)  $mr^2\omega^2$  (5)  $\frac{1}{2}mr^2\omega^2$

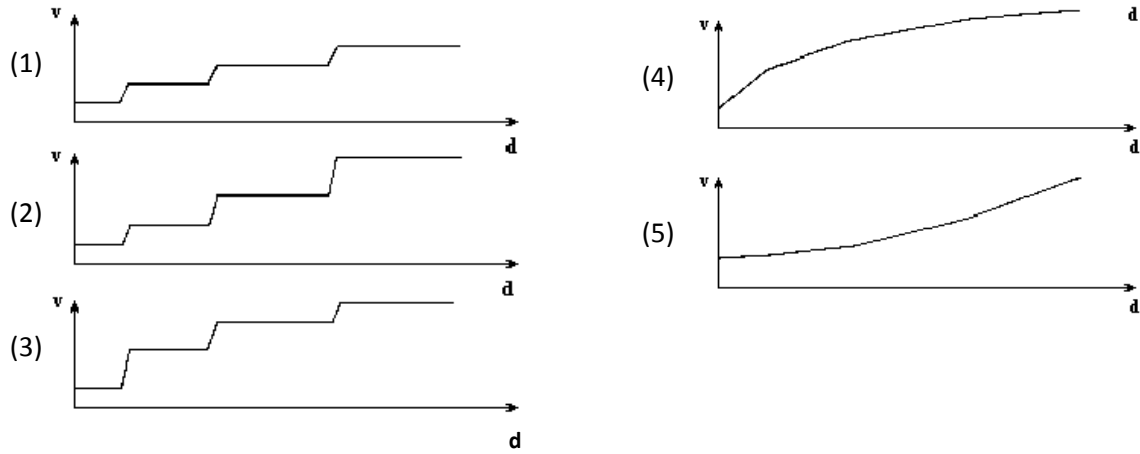
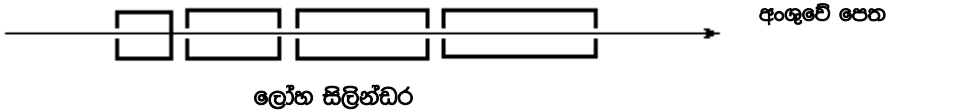
14) පහත රූපයෙහි එකිනෙකට විරුද්ධ දිශාවට තත්වුවක් දිගේ ගමන් කරන ස්පන්ද දෙකක් පෙන්වා ඇත. 3.25 s කට පසු ස්පන්දයේ හැඩය කුමක් වනු ඇතිද? {එකක (unit) 1 = කුඩා හතරැස් කොටුවක පළල}



- (1) (2) (3)



15) රූපයේ පෙන්වා ඇති පරිදි රේඛීය තවරකයක ආරෝපිත අංශුවක් එක අක්ෂීය කුහර ලෝහ සිලින්ඩර පද්ධතියක අක්ෂය ඔස්සේ ගමන් කරවීමට සලස්වා ඇත. ආරෝපිත අංශුව සෑම සිලින්ඩරයක තුළම නියත වේගයකින් ගමන් කරයි. එම අංශුවට ඕනෑම සිලින්ඩර දෙකක් අතර ඇති හිඩැසක් හරහා සාමට ගතවන කාලය සමාන වේ. එම ඕනෑම හිඩැසක් හරහා ගමන් කරන විට එම අංශුවෙහි වාලක ශක්තිය එකම නියත අගයකින් වැඩිවේ. පහත කිහිපම ප්‍රස්ථාරය මගින් අංශුවෙහි ප්‍රවේගය  $v$ , ගමන් කිරීමේ දිග  $d$ , සමග විචලනය වන අයුරු වඩාත්ම නිවැරදිව නිරූපණය කරයිද?



**B කොටස**

**(1). පෘථිවිය මත ග්‍රහකයෙකු ඝට්ටනය වීමෙන් ඇතිවන ප්‍රතිචාක**

අවුරුදු මිලියන 65කට පෙර  $2.0 \times 10^4 \text{ m s}^{-1}$  වේගයකින් පැමිණි ස්කන්ධය  $1.0 \times 10^{15} \text{ kg}$  වූ ග්‍රහකයක පෘථිවිය මතට කඩා වැටුණි. මෙම ඝට්ටනය නිසා බිහිවූයේ ආකෘති පෘථිවියේ ජීවත් වූ බොහෝ ජීවත් සමූල ඝාතනය වූ අතර මෙකසිකෝවේ අතිවිශාල ‘Chicxulub’ ආවාටය නිර්මාණය විය. මෙවැනි සර්වසම ග්‍රහකයෙකු අද පෘථිවිය මත සම්පූර්ණයෙන්ම අප්‍රත්‍යක්ෂව ගැටුමක් ඇති කරමින් කඩා වැටුණේ යැයි උපකල්පනය කරන්න. (එනම් ග්‍රහකය පෘථිවිය මත වදින ලක්ෂ්‍යයේදී එය පෘථිවිය තුලම කිඳා බැස නිශ්චලතාවයට පත්වේ.)

අසා ඇති ප්‍රශ්නවලට පිළිතුරු සැපයීම සඳහා පහත දත්තයන් භාවිත කරන්න.

පෘථිවියේ ස්කන්ධය =  $6.0 \times 10^{24} \text{ kg}$  ; පෘථිවියේ අරය =  $5.0 \times 10^6 \text{ m}$  ;  $\pi = 3$  ලෙස ගන්න.

පෘථිවියේ අවස්ථිති ඝූර්ණය, සමාන ස්කන්ධයක් හා අරයක් ඇති සමජාතීය ගෝලයක අවස්ථිති ඝූර්ණයට සමාන බව උපකල්පනය කරන්න. ස්කන්ධ  $M$  සහ අරය  $R$  වන සමජාතීය ගෝලයක අවස්ථිති ඝූර්ණය  $\frac{2}{5}MR^2$  වේ. පෘථිවියේ අරය හා සසඳන කළ ග්‍රහකයේ අරය ඉතා කුඩා බව තවදුරටත් උපකල්පනය කරන්න. එමනිසා ග්‍රහකය පෘථිවි පෘෂ්ඨයේ ඇතුළට ගිය පසු එය ලක්ෂ්‍යාකාර අංශුවක් ලෙසට සැලකිය හැකිය. ඝට්ටනය නිසා පෘථිවියේ කක්ෂයට සිදුවන වෙනස නොසලකා හරින්න. (d)(iii) හා (e) කොටස්වලට පිළිතුරු සැපයීම සඳහා කෝණික ගම්‍යතා සංස්ථිති මූලධර්මය භාවිත කරන්න.

(a) තම භ්‍රමණ අක්ෂය වටා පෘථිවියේ කෝණික ප්‍රවේගය  $\omega_E$  ගණනය කරන්න.  $\left(\frac{1}{144} = 7.0 \times 10^{-3}\right)$

(b) තම භ්‍රමණ අක්ෂය වටා පෘථිවියේ අවස්ථිති ඝූර්ණය  $I_E$  ගණනය කරන්න.

(c) තම භ්‍රමණ අක්ෂය වටා පෘථිවියේ කෝණික ගම්‍යතාවය  $L_E$  ගණනය කරන්න.

(d) (1) රූපයේ පෙන්වා ඇති පරිදි ග්‍රහකය උත්තර ධ්‍රැවයේ ගැටේ.

(i) පෘථිවියේ කේන්ද්‍රයට සාපේක්ෂව ග්‍රහකයේ කෝණික ගම්‍යතාව  $L_{ast}$  ගණනය කරන්න.

(ii)  $L_E$  ට සාපේක්ෂව  $L_{ast}$  හි දිශාව කුමක්ද ?

(iii) ඝට්ටනයෙන් පසු පෘථිවියේ අක්ෂයේ දිශානතීය අභ්‍රමණ වෙනස  $\Delta\theta$  (රේඩියනවලින්) සොයන්න.

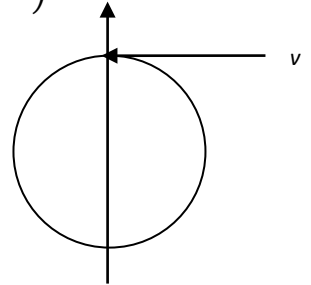
$$\left[\tan(\Delta\theta) = \Delta\theta; \left(\frac{1}{4.2} = 0.24\right)\right]$$

(iv) ඝට්ටනය නිසා උත්තර ධ්‍රැවය කොපමණ දුරක්  $\Delta l$  විස්ථාපනය වේද?

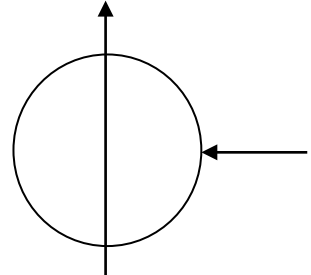
(e) (2) රූපයේ පෙන්වා ඇති අයුරින් ග්‍රහකය අරීය දිශාවක ඔස්සේ සමකයේ ගැටේ යැයි සිතමු.

ඝට්ටනයෙන් පසු පෘථිවියේ එක් පරිභ්‍රමණ කාලාවර්තයක ඇතිවන වෙනස  $\Delta\tau_{rad}$  සොයන්න.

$$\left(\frac{75}{21} = 3.60\right)$$



(1) රූපය



(2) රූපය

**පිළිතුරු පත්‍රය**

1 ප්‍රශ්නය	පිළිතුරු	ලකුණු
(a)	$\omega_E =$	
(b)	$I_E =$	

(c)	$L_E =$	
(d)(i)	$L_{ast} =$	
(d)(ii)	නිවැරදි පිළිතුර යටින් ඉරක් අදින්න. $L_{ast}, L_E$ ට සමාන්තර වේ. $L_{ast}, L_E$ ට ලම්බක වේ.	
(d)(iii)	$\Delta\theta =$	
(d)(iv)	$\Delta l =$	
(e)	$\Delta\tau_{rad} =$	

(2). ඉපිරෙන සබ් බුබුල

ඝනත්වය  $\rho_i$ , පීඩනය  $P_i$ , උෂ්ණත්වය  $T_i$  වූ වාතය අභ්‍යන්තරයේ ඇති අරය  $R_0$  වන ගෝලීය සබ් බුබුලක් වටා ඝනත්වය  $\rho_a$ , වායුගෝලීය පීඩනය  $P_a$  සහ උෂ්ණත්වය  $T_a$  වන වාතය ඇත. සබ් පටලයේ පෘෂ්ඨික ආතතිය  $\gamma$  වන අතර එහි ඝනත්වය  $\rho_s$  සහ ඝනකම  $t$  වේ. සබ් පටලයේ පෘෂ්ඨික ආතතිය සහ ස්කන්ධය උෂ්ණත්වය සමඟ වෙනස් නොවේ.  $R_0 \gg t$  ලෙස උපකල්පනය කරන්න.

- (a)  $P_a, \gamma$  සහ  $R_0$  ඇසුරෙන්  $P_i$  සඳහා ප්‍රකාශනයක් ලියන්න.
- (b) (i) අභ්‍යන්තර හා බාහිර වාතය පරිපූර්ණ වායු ලෙස හැසිරේ යැයි උපකල්පනය කරමින්  $\frac{\rho_i T_i}{\rho_a T_a}$  අනුපාතය සඳහා ප්‍රකාශනයක්  $P_a, \gamma$  සහ  $R_0$  ඇසුරෙන් ව්‍යුත්පන්න කරන්න.
- (ii)  $\frac{\rho_i T_i}{\rho_a T_a} - 1$  සඳහා සංඛ්‍යාත්මක අගය සොයන්න. [ $P_a = 1.0 \times 10^5$  Pa;  $\gamma = 2.5 \times 10^{-2}$  N m<sup>-1</sup>;  $R_0 = 1.0$  cm]
- (c) ප්‍රථමයෙන් අභ්‍යන්තරයේ උණුසුම් වාතය සහිතව බුබුල සෑදේ. බුබුල නිසල වාතයේ ඉපිලීමට නම්  $T_i$  ට නිඛිල යුතු ප්‍රකාශනය  $R_0, \rho_a, P_a, T_a, \gamma, \rho_s$ , සහ  $t$  ඇසුරෙන් ලබා ගන්න.
- (d) බුබුල සෑදී ගම් කාලයකට පසු එය වටපිටාව සමඟ තාප සමතුලිතතාවට පත්වේ. එවිට බුබුලේ අරය ස්වල්ප ප්‍රමාණයකින් අඩුවන අතර එය  $R_1$  ලෙස ගනිමු. එවිට මෙම බුබුල ස්වභාවයෙන්ම පොළොවට වැටේ. තාප සමතුලිතතාවයට පත්වූ පසු බුබුල පහළට නොවැටෙන ලෙස රඳවා තබා ගැනීම සඳහා උඩු අතට යැවිය යුතු වාත ධාරාවකට නිඛිල යුතු අවම ප්‍රවේගය  $u$  සඳහා ප්‍රකාශනයක් ලබා ගන්න. ඔබගේ පිළිතුර  $R_1, \rho_a, P_a, \gamma, \rho_s, g, t$  සහ වාතයේ දුස්ස්‍රාවීතාව  $\eta$  ඇසුරෙන් දෙන්න. ස්ටෝක්ස් (Stoke's) නියමය යෙදීමට හැකිවන පරිදි  $u$  ප්‍රවේගය කුඩා යැයි උපකල්පනය කරන්න.

පිළිතුරු පත්‍රය

2 ප්‍රශ්න	පිළිතුරු	ලකුණු
(a)	$P_i =$	
(b)(i)	$\frac{\rho_i T_i}{\rho_a T_a} =$	
(b)(ii)	$\frac{\rho_i T_i}{\rho_a T_a} - 1 =$	
(c)	$T_i =$	
(d)	$u =$	

Answers to MCQs.

(1) 5 (2) 1 (3) 4 (4) 1 (5) 5 (6) 4 (7) 2 (8) 3 (9) 2 (10) 2 (11) 1 (12) 3  
 (13) 1 (14) 4 (15) 3

ANSWER SHEET

Question 1	Results	Marks
(a)	$\omega_E = 7.0 \times 10^{-5} \text{ rad s}^{-1}$	<b>05</b>
(b)	$I_E = 6.0 \times 10^{37} \text{ kg m}^2$	<b>02</b>
(c)	$L_E = 4.2 \times 10^{33} \text{ kg m}^2 \text{ s}^{-1}$	<b>03</b>
(d)(i)	$L_{ast} = 1.0 \times 10^{26} \text{ kg m}^2 \text{ s}^{-1}$	<b>05</b>
(d)(ii)	Underline the correct statement. $L_{ast}$ is parallel to $L_E$ <u><math>L_{ast}</math> is perpendicular to <math>L_E</math></u>	<b>02</b>
(d)(iii)	$\Delta\theta = 2.4 \times 10^{-8} \text{ rad}$	<b>10</b>
(d)(iv)	$\Delta l = 0.12 \text{ m}$	<b>03</b>
(e)	$\Delta\tau_{rad} = 3.6 \times 10^{-5} \text{ s}$	<b>10</b>



**ANSWER SHEET**

Question 2	Results	Marks
(a)	$P_i = P_a + \frac{4\gamma}{R_0}$	<b>02</b>
(b)(i)	$\frac{\rho_i T_i}{\rho_a T_a} = 1 + \frac{4\gamma}{R_0 P_a}$	<b>05</b>
(b)(ii)	$\frac{\rho_i T_i}{\rho_a T_a} - 1 = \mathbf{1.0} \times 10^{-4}$	<b>03</b>
(c)	$T_i = \frac{R_0 \rho_a T_a}{R_0 \rho_a - 3 \rho_s t} \left[ 1 + \frac{4\gamma}{R_0 P_a} \right]$	<b>10</b>
(d)	$u = \frac{4R_0 \rho_s t g + \frac{4}{3} R_0^2 \rho_a g \left( \frac{4\gamma}{R_0 P_a} \right)}{6\eta}$	<b>10</b>